



۱- دو محور ده دهی بکشید و عدد های ۳۲ و ۵۸ و ۴۳ و ۱۸ و ۹ و ۶۱ را نشان دهید؟

۲- جاهای خالی را پر کنید و سپس مانند نمونه یک تساوی بنویسید.

۷۰ - ۴۰ = دسته ده تایی می شود دسته ده تایی

..... دسته ده تایی به اضافه ی دسته ده تایی می شود دسته ده تایی $۲۰ + ۴۰ =$

۳- جواب جمع ها را مانند نمونه بدست آورید

$$۷ + ۶ = ۱۰ + ۳ = ۱۳$$

$$۷ + ۶ = ۵ + ۲ + ۵ + ۱ = ۱۳$$

$$۸ + ۵$$

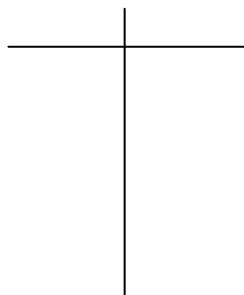
=

$$۷ + ۹$$

=

۴- همه عدد های دو رقمی را بنویسید که رقم یکان آن ۳ و ۴ و رقم دهگان آن ۷ و ۵ باشد

یکان دهگان



۵- الگوهای زیر را کامل کنید

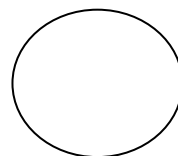
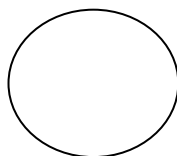
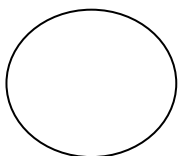
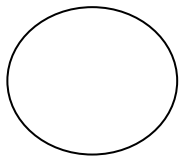
$$۲۵ - ۳۵ - ۴۵$$

..... - -

$$۵ - ۷ - ۹ - ۱۱$$

..... - -

۶- عقربه بزرگ چقدر حرکت کرده است؟



۷- جمع و تفریق های زیر را از راه طولانی بدست آورید

$$\begin{array}{r} 48 \\ - 32 \\ \hline \end{array}$$

$$\begin{array}{r} 62 \\ + 17 \\ \hline \end{array}$$

$$\begin{array}{r} 67 \\ - 43 \\ \hline \end{array}$$

$$\begin{array}{r} 45 \\ + 54 \\ \hline \end{array}$$

۸- در جعبه ای ۳۶ عدد خرمالو و در جعبه دیگر ۶۹ عدد خرمالو وجود دارد. در این دو جعبه، چند خرمالو وجود دارد؟ «از راه حل طولانی»

۹- ۷۶ توپ زرد و قرمز داریم ۴۳ توپ زرد است. چند توپ قرمز داریم؟ «از راه حل طولانی»

۱۰- نازنین چهار جفت جوراب به رنگ های آبی و قرمز و زرد و سبز دارد و دو جفت کفش به رنگ های سورمه ای و نارنجی دارد او به چند طریق می تواند جوراب و کفش را با هم بپوشد؟