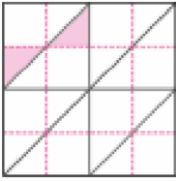




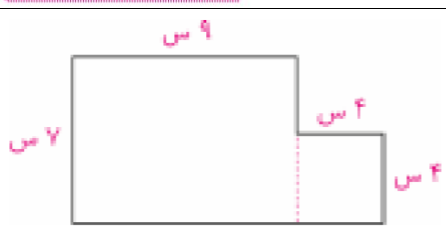



ردیف	شرح سوالات	بارم
۱	<p>شکل را به طور متقارن رنگ کنید و بگویید از چند مربع رنگ شده در این شکل استفاده شده است؟</p> 	
۲	<p>علیرضا یک شانه‌ی کوچک تخم‌مرغ خرید که ۲ ردیف داشت و در هر ردیف ۵ تخم‌مرغ گذاشته شده بود.</p> <p>الف) او چند تخم‌مرغ خریده است؟</p> <p>ب) اگر ۲ شانه می‌خرید، چند تخم‌مرغ داشت؟</p> <p>ج) اگر ۳ شانه می‌خرید، چند تخم‌مرغ داشت؟</p> <p>د) چه رابطه‌ای بین تعداد تخم‌مرغ، های خریده شده وجود دارد؟ توضیح دهید.</p> 	
۳	<p>اگر سعید ۷۵۰ متر دیگر دوچرخه‌سواری کند، در مسابقه‌ی دوچرخه‌سواری ۵ کیلومتری برنده می‌شود. او چند کیلومتر و چند متر از راه را طی کرده است؟</p> 	
۴	<p>در جاهای خالی عدد مناسب بنویسید.</p> <p>الف) ۶۴۵۹ یعنی یکی ده تایی صد تایی هزار تایی.</p> <p>ب) ۳۴۷۶ گرم یعنی کیلوگرم گرم.</p> <p>ج) ۶ کیلومتر و ۱۵ متر یعنی متر.</p> <p>د) تا صد متر ۸۰۰۰ متر</p>	
۵	<p>با توجه به ساعت به سؤال‌های زیر پاسخ دهید.</p> <p>الف) ساعت چه زمانی را نشان می‌دهد؟</p> <p>ب) عقربه‌ی بزرگ چه کسری از یک ساعت را حرکت کرده است؟ (راهنمایی: ساعت را ۴ قسمت کنید.)</p> <p>ج) چه کسری مانده تا یک ساعت کامل شود؟</p> <p>د) زمانی را که ساعت نشان می‌دهد با ربع بنویسید.</p> 	
۶	<p>اتوبوسی ساعت ۶ صبح از کرج حرکت کرده و بعد از ۸ ساعت به شمال رسیده است. چه ساعتی از بعد از ظهر رسیده است؟</p> 	

ادامه سؤالات آزمون درس ریاضی سوم ابتدایی

ردیف	شرح سوالات	بارم																				
۷	اگر به ۵ برابر پول احمد ۶۰ تومان اضافه کنیم، پول او ۱۰۰ تومان می‌شود. پول احمد چند تومان بوده است؟																					
۸	به عدد و حروف بنویسید. <div style="display: flex; justify-content: space-around; align-items: center;"> <div style="border: 1px solid gray; padding: 5px;">هفت هزار و چهارصد و دوازده</div> <div style="border: 1px solid gray; padding: 5px;">۹۹۸۷</div> </div>																					
۹	محیط و مساحت شکل زیر را به دست آورید. 																					
۱۰	مرجان می‌خواهد دور یک دستمال که به شکل مربع است را تور بدوزد. اگر هر طرف دستمال ۲۵ سانتی‌متر باشد برای دوخت دورتا دور این دستمال، چند متر تور نیاز دارد؟																					
۱۱	حاصل جمع و تفریق‌های زیر را به دست آورید. <table style="width: 100%; text-align: center;"> <tr> <td>۸۶۴۵</td> <td>۴۰۲۶</td> <td>۹۷۰۵</td> <td>۳۴۲۱</td> <td>۷۳۵۴</td> </tr> <tr> <td><u> </u> - ۳۲۵۸ +</td> <td><u> </u> - ۳۵۷۱ -</td> <td><u> </u> + ۶۸۴۳ +</td> <td><u> </u> - ۴۳۹۰ -</td> <td><u> </u> ۳۲۶۵</td> </tr> </table>	۸۶۴۵	۴۰۲۶	۹۷۰۵	۳۴۲۱	۷۳۵۴	<u> </u> - ۳۲۵۸ +	<u> </u> - ۳۵۷۱ -	<u> </u> + ۶۸۴۳ +	<u> </u> - ۴۳۹۰ -	<u> </u> ۳۲۶۵											
۸۶۴۵	۴۰۲۶	۹۷۰۵	۳۴۲۱	۷۳۵۴																		
<u> </u> - ۳۲۵۸ +	<u> </u> - ۳۵۷۱ -	<u> </u> + ۶۸۴۳ +	<u> </u> - ۴۳۹۰ -	<u> </u> ۳۲۶۵																		
۱۲	ابوذر ۹۷۵۰ تومان پس‌انداز کرده است و خواهرش آمنه ۳۷۰۰ تومان کمتر از او پس‌انداز کرده است. آمنه چند تومان پس‌انداز کرده است؟ آن‌ها روی هم چند تومان پس‌انداز کرده‌اند؟ 																					
۱۳	امین غیر از کتاب‌های درسی، کتاب‌های دیگری را هم مطالعه می‌کند. او تعداد ساعت‌های برنامه‌ی مطالعات غیردرسی خود را در جدول زیر نوشته است. <table border="1" style="border: 2px solid pink; margin: 10px auto;"> <thead> <tr> <th>زمان / هفته</th> <th>زبان</th> <th>داستان</th> <th>شعر</th> </tr> </thead> <tbody> <tr> <td>یکشنبه</td> <td>۳</td> <td>۱</td> <td>۲</td> </tr> <tr> <td>سه‌شنبه</td> <td>۳</td> <td>۳</td> <td>۱</td> </tr> <tr> <td>پنج‌شنبه</td> <td>۲</td> <td>۱</td> <td>۱</td> </tr> <tr> <td>جمعه</td> <td>۱</td> <td>۳</td> <td>۲</td> </tr> </tbody> </table> <p>الف) امین برای چه کتاب‌هایی بیشتر زمان گذاشته است؟ ب) امین برای چه کتاب‌هایی کمتر زمان گذاشته است؟ ج) در هفته چند ساعت را به مطالعه‌ی کتاب داستان اختصاص داده است؟ د) یکی از نمودارها را انتخاب کنید و این برنامه را روی آن نشان بدهید.</p>	زمان / هفته	زبان	داستان	شعر	یکشنبه	۳	۱	۲	سه‌شنبه	۳	۳	۱	پنج‌شنبه	۲	۱	۱	جمعه	۱	۳	۲	
زمان / هفته	زبان	داستان	شعر																			
یکشنبه	۳	۱	۲																			
سه‌شنبه	۳	۳	۱																			
پنج‌شنبه	۲	۱	۱																			
جمعه	۱	۳	۲																			

نام و نام خانوادگی:

اداره سنجش آموزش و پرورش
آزمون نوبت دوم ریاضی سوم ابتدایی

مدت آزمون:

تاریخ آزمون:

بارم	شرح سوالات	ردیف
------	------------	------

	<p>۱۴ امین روزهای زوج به کلاس قرآن می‌رود. او در این روزها تعدادی از آیات قرآن را حفظ می‌کند. جدول برنامه را کامل کنید.</p> <p>الف) امین در کدام روز آیات بیشتری حفظ کرده است؟ ب) در کدام روز ۱۰ آیه حفظ شده است؟ ج) دوشنبه چند آیه حفظ شده است؟</p> <table border="1" data-bbox="185 371 799 577"> <thead> <tr> <th>تعداد آیات حفظ شده</th> <th>چوب خط</th> <th>روزهای هفته</th> </tr> </thead> <tbody> <tr> <td>.....</td> <td> </td> <td>شنبه</td> </tr> <tr> <td>۸</td> <td>.....</td> <td>دوشنبه</td> </tr> <tr> <td>.....</td> <td> </td> <td>چهارشنبه</td> </tr> </tbody> </table>	تعداد آیات حفظ شده	چوب خط	روزهای هفته	 	شنبه	۸	دوشنبه	 	چهارشنبه	
تعداد آیات حفظ شده	چوب خط	روزهای هفته												
.....	 	شنبه												
۸	دوشنبه												
.....	 	چهارشنبه												
	<p>۱۵ حاصل ضرب‌های زیر را به دست آورید.</p> <p>۹۰۸ ۴۱۳ ۶۵۰ ۹۰۸ ۵۷۸</p> <p>_____ × ۳ × _____ × ۵ × _____ × ۳ × _____ × ۵ × _____ × ۶</p>													