

نام و نام خانوادگی:

کلاس سوم

پایانی

ارزشیابی درس ریاضی

تاریخ:

۱

الف) به عدد و حروف بنویسید.

سه هزار و پنج .....

چهارصد و چهل و نه .....

۴۵۴۵.....

۱۰۰۴.....

ب) عددهای قبل و بعد از این عددها را بنویسید.

.....، ۸۴۹۹، .....

.....، ۱۰۰۰، .....

.....، ۴۴۴، .....

ج) ۴ هزارتایی و ۹ یکی و ۵ صدتایی و ۲ دده تایی می شود.....

د) حاصل جمع کوچکترین عدد سه رقمی و بزرگترین عدد دو رقمی چند است؟

۲

با توجه به جدول سمت چپ ، جدول سمت راست را کامل کنید.

صدتایی	ده تایی	یکی
۵	۲۵	۸
۸	۱	۱۶

صدگان	دهگان	یکان
.....	.....	۸
.....	.....	.....

۳










عدد های داده شده را با هم جمع کنید .

(۳۸۹۳، ۴۳۰۸) (۳۴۲، ۴۱۳، ۲۸۹۹)

۴

عدد های داده شد را تفریق کنید .

(۸۰۴۱، ۶۵۲) (۴۸۹، ۲۹۵)

۵	<p>نام هر شکل را در زیر آن بنویسید.</p> <div style="display: flex; justify-content: space-around; align-items: center;"> <div style="text-align: center;">               .....         </div> <div style="text-align: center;">               .....         </div> <div style="text-align: center;">               .....         </div> <div style="text-align: center;">               .....         </div> </div>
۶	<p>محیط را تعریف کنید .</p>
۷	<p>الف) ۴ کیلومتر چند متر است؟ .....          ب) ۸ کیلومتر و ۴۵۰ متر چند متر است؟.....          ج) ۶۰۰۰ متر چند کیلومتر است؟          د) ۷۸۰۰ متر..... کیلومتر و .....متر است.</p>
۸	<p>از علامت مناسب استفاده کنید. (&lt; = &gt;)</p> <div style="display: flex; justify-content: space-around; align-items: center;"> <div style="text-align: center;"> <math>۱۶۹ - ۸۵۷</math> ○ <math>۶۱۰ + ۷۸</math> </div> <div style="text-align: center;"> <math>۱۸۰ - ۶۲۱</math> ○ <math>۳۰۱ + ۵۸</math> </div> </div>
۹	<p>با توجه با شکل جاهای خالی را پر کنید.</p> <div style="display: flex; justify-content: space-around; align-items: center;"> <div style="text-align: center;">               ..... سه تا می شود.....         </div> <div style="text-align: center;">               ..... دو تا می شود.....         </div> <div style="text-align: center;">               ..... دو تا می شود.....         </div> <div style="text-align: center;">               ..... دو تا می شود.....         </div> <div style="text-align: center;">               ..... دو تا می شود.....         </div> </div>
۱۰	<p>برای ضرب های زیر شکل بکشید.</p> <div style="display: flex; justify-content: space-around; align-items: center;"> <div style="text-align: center;"> <p>۴ دو تا می شود ۸ تا</p> </div> <div style="text-align: center;"> <p>۳ سه تا می شود ۹ تا</p> </div> </div>
۱۱	<p>یک خط بسته و یک خط شکسته بکشید.</p>
۱۲	<p>تعداد دانش آموزان کلاس اول دبستان شهید مفتح ۳۸ نفر و تعداد دانش آموزان کلاس سوم این دبستان ۲۹ نفر است.</p> <p>کلاس سوم چند دانش آموز از کلاس اول کمتر دارد؟</p> <p>این دو کلاس روی هم چند دانش آموز دارند؟</p>

۱۳	<p>کتابی ۱۵۰ صفحه داشت. محمد بار اول ۴۲ صفحه ، بار دوم ۸۰ صفحه و بار سوم ۲۰ صفحه ی این کتاب را خواند.</p> <p>محمد در این سه بار چند صفحه را خوانده است؟</p> <p>محمد چند صفحه را نخوانده است؟</p>
۱۴	<p>جمله های درست و نادرست را معین کنید.</p> <p>الف) یک کیلومتر ۱۰۰۰۰ متر است. ( )</p> <p>ب) فاصله ی بین دو شهر را با متر اندازه می گیرند. ( )</p> <p>ج) ۲۰۰۰ متر از ۲ کیلومتر بیشتر است. ( )</p>